


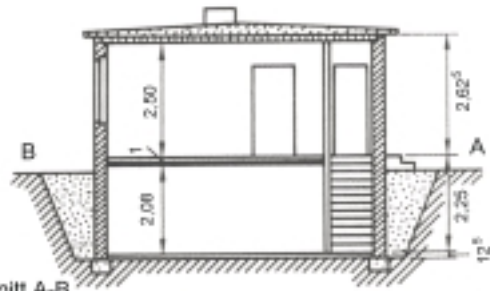
Bauplan Wochenendhaus

Wochenendhaus M 1 : 200



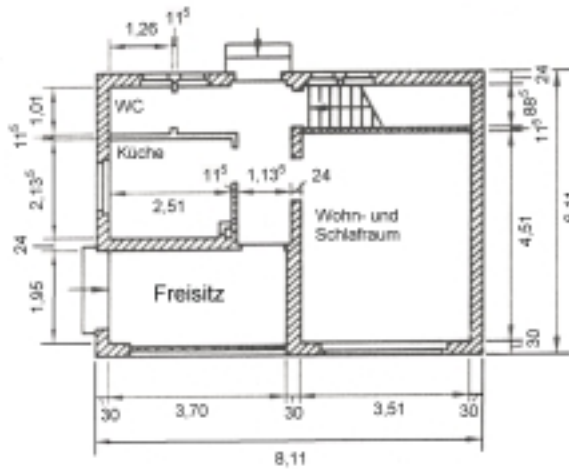
Ansiicht

Fig. 1



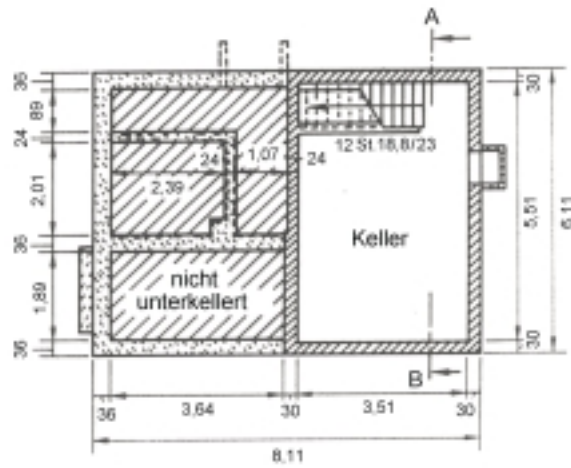
Schnitt A-B

Fig. 2



Erdgeschoss - Grundriss

Fig. 3



Kellergeschoss - Grundriss

Fig. 4

Aufgaben:

1. Wo kannst Du die Länge und Breite der Räume ablesen?
2. In welcher Zeichnung findest Du Höhenangaben?
3. Was bedeutet der Schnitt A-B in Fig. 2?

Fig. 1	Fig. 2	Fig. 3	Fig. 4

4. Beschreibe den Weg aus dem Keller über den Freisitz in den Garten!

5. Was bedeuten Zahlen mit Komma?

6. Was bedeuten Zahlen ohne Komma?

7. Finde die Bedeutung der hochgestellten kleinen **5**!

8. Nenne die Anzahl der Fenster im Erdgeschoss!

9. Welche Dicke haben nichttragende Innenwände?
