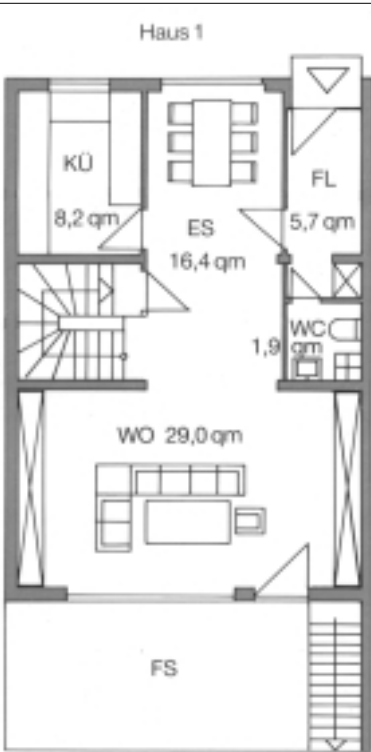
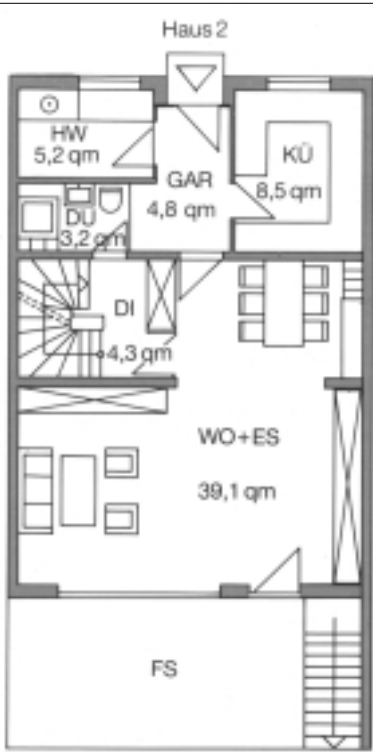
















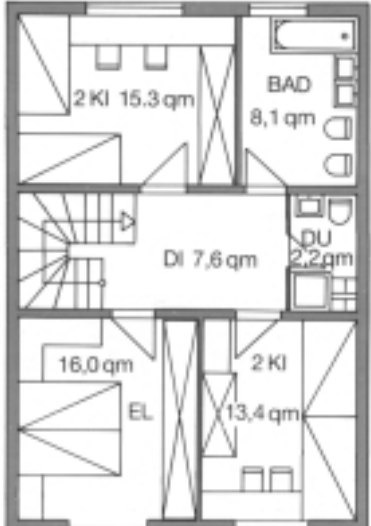
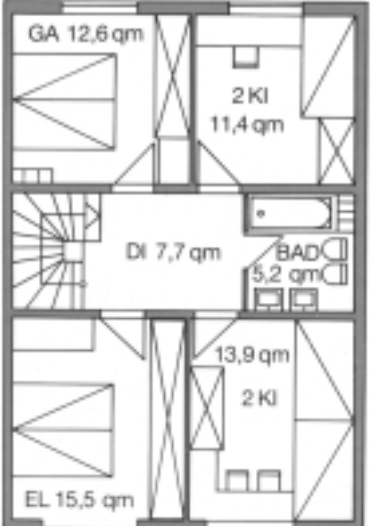


Räume planen und einrichten

Aufgabe:

Finde für Haus 1 und 2 die Anzahl der jeweiligen Einrichtungsgegenstände heraus!

		Haus 1	Haus 2
 <p>Haus 1 Erdgeschoß</p>	 <p>Haus 2 Erdgeschoß</p>		Bett 200×100
			Doppelbett 200×200
			Stuhl Sessel 45×50 65×90
			Tisch 120–160×60
			Schreibtisch 110–165×90
			Arbeitsplatte >60×60
			Bücherregal 20–30 tief
			Schrank 110–125×60
			Waschbecken 55×45
			Dusche 80×80
			Badewanne 170×75
			WC 80×70
			Spüle 80×60
			Herd Kühlschrank 60×60 70×60
			Waschmaschine 60–110×60
			Treppe unten oben
 <p>Haus 1 Obergeschoß</p>	 <p>Haus 2 Obergeschoß</p>		